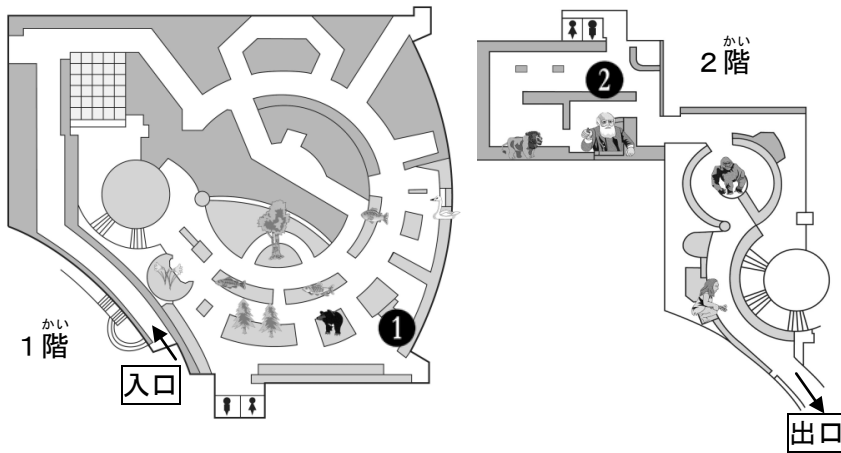


こん虫をさがそう【小学3年】

小学校

名前 _____



— どんなどころに、
どんなこん虫が
いるのかな？ —

群馬には豊富な自然があり、たくさん
のこん虫が生活しています。左の図
は、博物館の地図です。地図の①
ちかくのこん虫について、1～2の問
題に答えましょう。

1 下の写真の場所に展示されているこん虫をさがして、名まえを書きましょう。



2 ノコギリクワガタは、どうしてクヌギやコナラの木にあつまってくるのでしょうか。

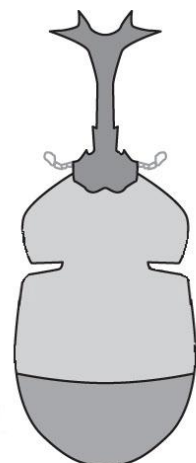
3 右の絵はこん虫のカブトムシをはら側から見た絵です。

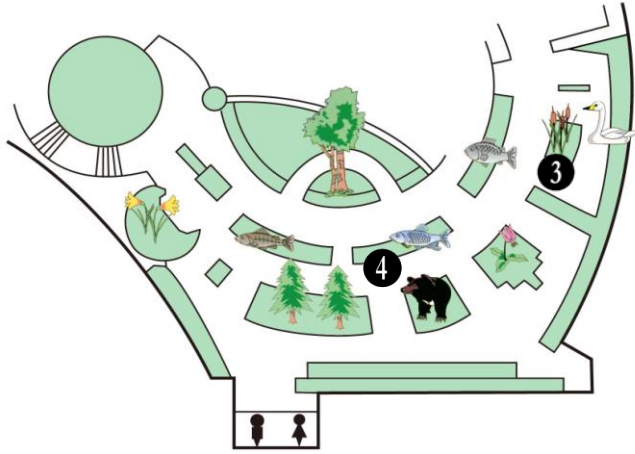
つぎの問題に答えましょう。(2階の②に行きましょう。)

- (1) カブトムシのはら側に足を書きくわえましょう。
(足の出ているところもしっかり書きましょう。)
- (2) カブトムシの足は何本ですか。

_____ 本

- (3) カブトムシは、ツノの部分から「頭」「むね」「はら」と3つに分かれています。カブトムシの足は3つのうちどこから出ているのでしょうか。





こん虫は水の中でも生活をしています。(水生
 昆虫ともいいます。)

左の地図の博物館のBコーナー（群馬の
 自然）の③や④では、水の中で生活をして
 いるこん虫を展示しています。地図の数字をた
 よりに、4～7の問題に答えましょう。

4 水の中で生活をするこん虫をさがして名まえを書きましょう。



5 ゲンゴロウは何を食べて生きていると思いますか。

6 タガメはだんだんと数がへってきています。それはどうしてですか。


7 こん虫のからだのつくりや^{そだ}育ち方について気づいたことを書きましょう。

小学3年 【昆虫をさがそう】解答

1 カブトムシ ヨツボシオオキスイ オオナガコメツキ ノコギリクワガタ
サトキマダラヒカゲ ゴマダラチョウ オオムラサキ オオゾウムシ
アオカナブン シロテンハナムグリ

2 エサとなる^{じゅえき}樹液が出ている ^か枯れたクヌギやコナラは^{ようちゆう}幼虫の生活の場となる

3 (1)



(2) 6本

(3) むね

4 トンボの^{ようちゆう}幼虫 (やご) タイコウチ ミズカマキリ タガメ
ゲンゴロウ シマゲンゴロウ トビケラの^{ようちゆう}幼虫 カゲロウの^{ようちゆう}幼虫 など

5 小魚やこん虫、ミミズ など

6 生活できる^{ばしよ}場所がへってきたため など

7 足に^{ふし}節がある むねから足が六本出ている 羽をもつこん虫がいる
たまご→^{ようちゆう}幼虫→さなぎ→せい虫と^{そだ}育っていく しょっ角をもっている
頭、むね、はらにわかれている 足は6本 など